
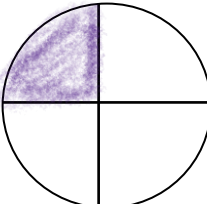
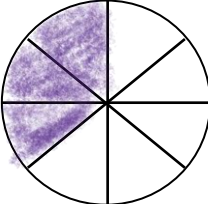


نام و نام خانوادگی: نام کلاس: نام گروه:	به نام خداوند بخشنده مهربون کاربرگ ریاضی مرور فصل ۱ تا ۳ پایه چهارم ابتدایی	دبستان: زمان: تاریخ:
امتیاز سوال	سوالات	امتیاز من
۲ امتیاز	<p>(۱) درست <input checked="" type="checkbox"/> نادرست <input type="checkbox"/></p> <p>الف) به جواب تقسیم، مقسوم علیه گفته می شود . ب) می توان گفت یک میلیون ۱۰ دسته ی صدهزارتایی است .</p>	
۷ امتیاز	<p style="text-align: center;">پاسخ کوتاه </p> <p>(۲) با توجه به عدد ۱۳۵۶۰۰۹۲ به سوالات زیر پاسخ دهید . الف) به حروف بنویسید . ب) با ارزش ترین رقم را مشخص کنید ج) بزرگترین رقم در کدام طبقه و مرتبه قرار دارد؟ د) عدد را با تقریب صد هزار بنویسید .</p> <p>(۳) در جای خالی عدد مناسب قرار دهید تا دو کسر برابر شوند . $\frac{۸}{۸} = \frac{۱}{۸}$</p> <p>(۴) بزرگترین عددی که می توان در جای خالی نوشت کدام است ؟ $\square \times ۷ < ۴۹$</p> <p>(۵) عددی از ۴ برابر $\frac{۵}{۲۰}$ ، به اندازه ۹ تا بیشتر است . آن عدد را پیدا کنید .</p>	
۴ امتیاز	<p>(۶) در جای خالی علامت $<$ $=$ $>$ قرار دهید .</p> <p>$۹۰۰۳ \bigcirc ۲۰۰۰۳$ $۵ \times \frac{۱}{۱۰} \bigcirc ۰/۵$ $\frac{۱۵۰}{۲۱۰} \bigcirc ۱$ $\frac{۴}{۵۰} \bigcirc \frac{۲}{۱۰۰}$</p>	
۱ امتیاز	<p>(۷) خانواده احمدی برای تفریح به شهر بازی رفته بودند . آن ها دو پیتزا خریدند و چند قطعه از هر یک را خوردند . روی هم چه مقدار از پیتزا خورده شده است ؟</p> <div style="display: flex; justify-content: space-around; align-items: center;">   </div>	

○	۸) مادر برای مهمان ها ۶ ردیف ۴ تایی صندلی چید . در نهایت ربع صندلی ها خالی ماند . حساب کنید مهمان ها چند نفر بودند ؟	۱ امتیاز
○	۹) آیا عدد ۲۸۹۷۶ بر ۹ بخش پذیر است ؟ (همراه با ذکر دلیل)	۱ امتیاز
○	۱۰) خانم فاطمی خرید های زیر را انجام داده و مبلغ ۳۰۰۰۰۰ هزار تومان پول به فروشنده داده است . چند تومان برایش باقی مانده است ؟ (۲ کنسرو ماهی هر قوطی ۴۵۰۰۰ تومان و ۲۶ مداد هر عدد ۷۴۰۰ تومان)	۲ امتیاز
○	۱۱) عملیات های زیر را انجام دهید . $(4 \times \frac{1}{8}) - (6 \times \frac{2}{48}) =$	۲ امتیاز

مجموع امتیازات :

بگو بینم از خودت راضی بودی ؟ کجاها یادت رفته بود ؟

.....

